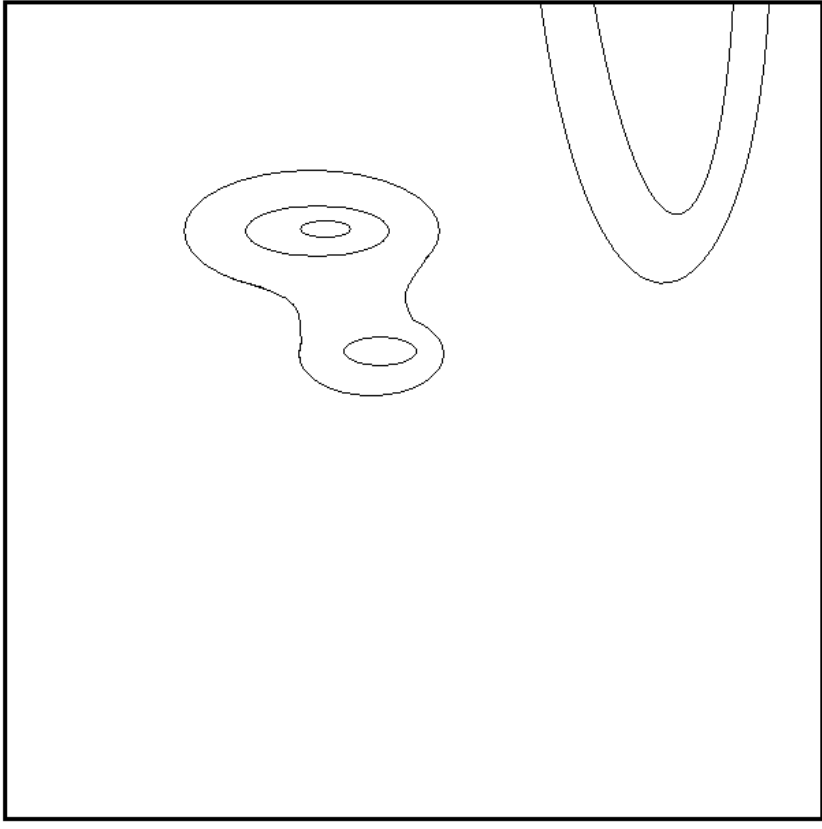














A1.3 Η χρήση των χαρτών στην καθημερινή ζωή

1)



2)

3)

	Πόλη
	Χωριό
	Λίμνη
	Ποτάμι
	Δρόμος
	Γέφυρα
	Τούνελ
	Λιμάνι
	Πλαζ
	Βιομηχανική περιοχή
	Δάσος
	Ηλεκτροφόροι πυλώνες υψηλής τάσης

4)

1. Σημειώστε στον παραπάνω χάρτη τα 4 βασικά στοιχεία των χαρτών (τίτλος, κλίμακα, προσανατολισμός, υπόμνημα).
2. Σχεδιάστε στην παραπάνω εικόνα τον χάρτη της περιοχής που απεικονίζεται στην εικόνα της σελ.20 του βιβλίου σας με τη βοήθεια του υπομνήματος.
3. Πού βρίσκεται το χωριό σε σχέση με την πόλη;

4. Πού βρίσκεται η βιομηχανική περιοχή σε σχέση με το χωριό;

5. Με τη βοήθεια της κλίμακας του χάρτη βρείτε την απόσταση της πόλης από το χωριό;

6. Με τη βοήθεια της κλίμακας του χάρτη βρείτε την απόσταση της βιομηχανικής περιοχής από την πόλη;
